

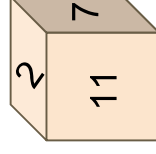
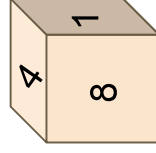
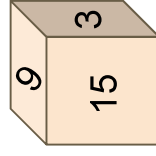
Sujet 10 :

Le dé le plus fort !

Cyrille possède trois dés entièrement blancs. Il écrit les nombres de 1 à 18 comme il le souhaite sur les 18 faces des dés.

Laurent va choisir en premier un des dés ainsi créés puis Cyrille va choisir un dé parmi les deux restants.

Ils lancent chacun leur dé et celui qui obtient le plus grand nombre gagne.



Comment Cyrille doit-il s'y prendre pour avoir plus de chances de gagner que Laurent (qui pourtant choisit son dé en premier) ?
